







鏡映し -7

年 月 日

ま なか 真ん中の2つのパネルが、
かがみ すいめん うつ 鏡と水面に映ったらそれぞれどう見えるでしょうか？
そうそう か 想像して描きましょう。



かがみ
鏡

すいめん
水面

かがみ
鏡

すいめん
水面

